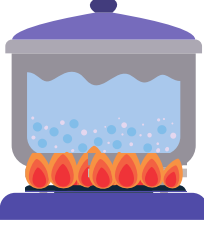




50 gram




50 gram



Aynı miktar su bulunan iki kaptan 2.si daha fazla ısı aldığına göre hangisinde sıcaklık artışı fazladır? İşaretle!



50 gram



10 gram



Yukarıdaki şekilde özdeş ısıtıcılar ile ısıtılan suların aldıkları ısı miktarları eşittir. Eşit süre ısıtılan 50 gram suyun sıcaklığı mı, 10 gram suyun sıcaklığı mı fazladır? İşaretle!



Yukarıdaki soruları cevapla!

ISI VEREN MADDEYİ İŞARETLE!



- Ütü
- Kumaş




- Isı Kaynağı
- Çaydanlık



- İçecek
- Buz

- Çorba
- Kaşık



Isı akış yönünü ok kullanarak çiz!



Yukarıdaki soruları cevapla!